

EVALUATION DE MATHEMATIQUES – CM2

NOM :

PRENOM :

Exercice 1 :

Dictée de nombres

Exercice 2 :

Écris les nombres en chiffres.

Neuf-millions-neuf-cent-cinquante-huit-mille-deux-cent-vingt-deux :

Deux-milliards-quatre-cent-millions-soixante-treize-mille-cent-neuf :

Trente-trois-milliards-cent-sept-millions-huit-cent-quatorze-mille :

Exercice 3 :

Écris les nombres en lettres :

10 709 578 : _____

1 304 518 084 : _____

Exercice 4 :

Complète la droite graduée :



Exercice 5 :**Dans le nombre 1 760 825 450 complète :**

4 est le chiffre des ...

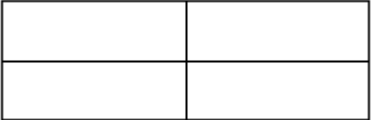
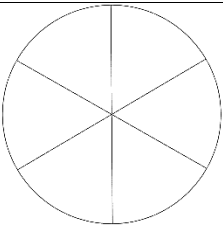
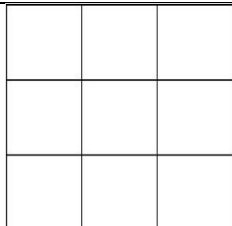
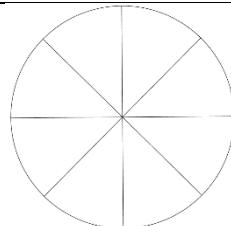
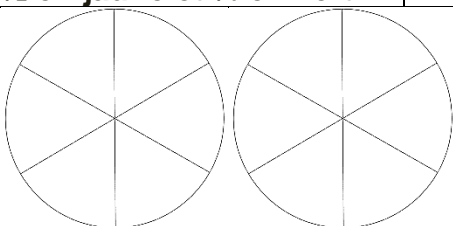

Le chiffre des milliers est :

Le chiffre des centaines de mille est :





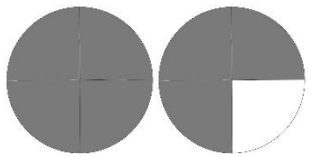
Le nombre de milliers est

Le nombre de millions est :

Exercice 6 :**Colorie les fractions demandées :**

			
$\frac{1}{2}$ en jaune et $\frac{1}{4}$ en vert	$\frac{1}{3}$ en bleu $\frac{1}{6}$ en noir	$\frac{2}{9}$ en bleu $\frac{1}{3}$ en vert	$\frac{3}{4}$ en noir $\frac{1}{8}$ en rouge
			
$\frac{5}{3}$		$\frac{5}{2}$	

Exercice 7 :**Ecris la fraction correspondant à la représentation proposée :**

	—		—
	—		—
	—		

Exercice 8 :**Ecris le score du chronomath :**

Colonne 1 : . . . /10

Colonne 2 + colonne 3 : . . . /20

Exercice 9 :**Pose et calcule dans ton cahier :**

$$18\,542 + 2\,808 = \dots$$

$$154\,250 + 7\,890 + 56\,321 = \dots$$

$$4\,058 + 290\,051 + 13\,252 = \dots$$

$$1\,845 \times 34 = \dots$$

$$254 \times 69 = \dots$$

$$9\,785 - 4\,729 = \dots$$

$$7\,984 - 3\,755 = \dots$$

$$18\,253 - 2\,178 = \dots$$

$$525 : 5 = \dots$$

$$2\,772 : 12 = \dots$$